

Mathematik Klasse 1a

Aufgaben für die Lernzeit

16.03.2020 bis 20.03.2020

K. Kaline

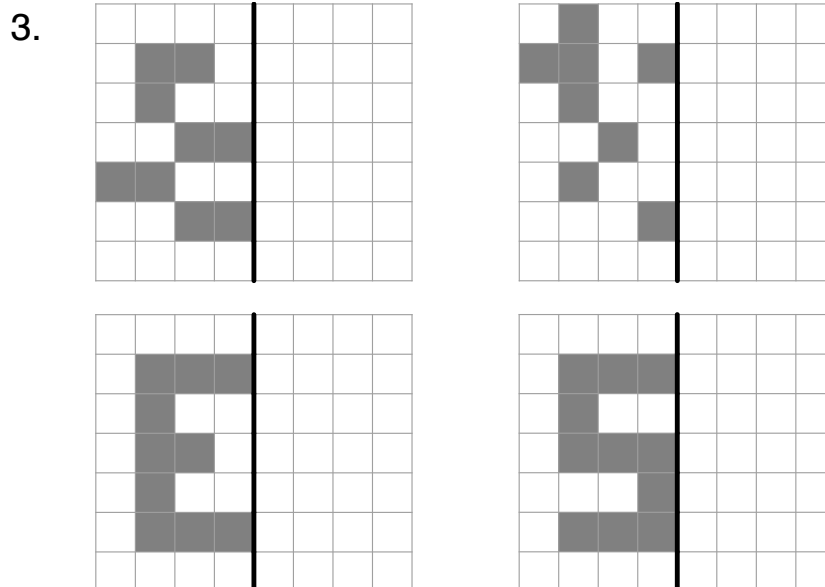
Montag, 16.03.2020

Schreibe die Übung in dein M1 ab.

Übung

1. $8 + 2 + 7 =$	$12 + 4 =$
$4 + 6 + 3 =$	$15 + 3 =$
$5 + 5 + 5 =$	$11 + 1 =$
$3 + 7 + 9 =$	$13 + 7 =$
$9 + 1 + 6 =$	$10 + 9 =$

2. $18 - 6 =$	$12 - 2 =$
$15 - 5 =$	$19 - 7 =$
$17 - 2 =$	$18 - 4 =$
$20 - 7 =$	$13 - 2 =$
$16 - 3 =$	$20 - 6 =$



M2: Verdoppeln (AB einkleben)

Schreibe die Aufgaben in zwei Blöcken ab und lerne sie auswendig.

$1 + 1 = 2$

$2 + 2 = 4$

$3 + 3 = 6$

$4 + 4 = 8$

$5 + 5 = 10$

$6 + 6 = 12$

$7 + 7 = 14$

$8 + 8 = 16$

$9 + 9 = 18$

$10 + 10 = 20$

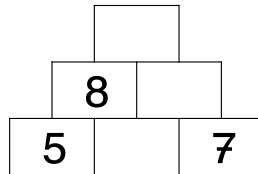
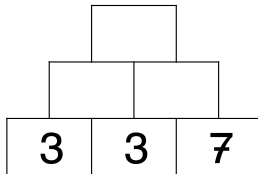
Lernen!

Dienstag, 17.03.2020

Schreibe die Übung in dein M1 ab.

Übung

1.



2. $8 + \underline{\quad} = 10$

$4 + \underline{\quad} = 10$

$9 + \underline{\quad} = 10$

$3 + \underline{\quad} = 10$

$5 + \underline{\quad} = 10$

$6 + 6 =$

$3 + 3 =$

$8 + 8 =$

$4 + 4 =$

$2 + 2 =$

3. Gerade Zahlen lila

15 18 12 17 9 4 20 16 13

Zahline Arbeitsheft Seite 46, Nr. 5, 6, 7

Buch S. 88, Nr. 5 → schreibe in dein M1



Mittwoch, 18.03.2020


Schreibe die Übung in dein M1 ab.

Übung

1.


+	6	2	8	5	3
10					
3					
12					


→ 6 cm rüber


5 

2. $18 - \underline{\quad} = 14$ $19 - 2 =$
 $16 - \underline{\quad} = 10$ $15 - 5 =$
 $19 - \underline{\quad} = 12$ $13 - 1 =$
 $20 - \underline{\quad} = 18$ $18 - 4 =$
 $17 - \underline{\quad} = 13$ $20 - 7 =$

3. Geld

18 ct 

12 ct 

20 ct 

Geometrie

Zeichne in dein Geometrieheft:

$\overline{DE} = 8 \text{ cm}$

$\overline{FG} = 2 \text{ cm}$

$\overline{LM} = 3 \text{ cm}$

$\overline{NO} = 12 \text{ cm}$

AB: Spiegelbilder (Arbeite mit Lineal und Bleistift) → siehe letzte Seite 😊

Donnerstag, 19.03.2020

Schreibe die Übung in dein M1 ab.

Übung

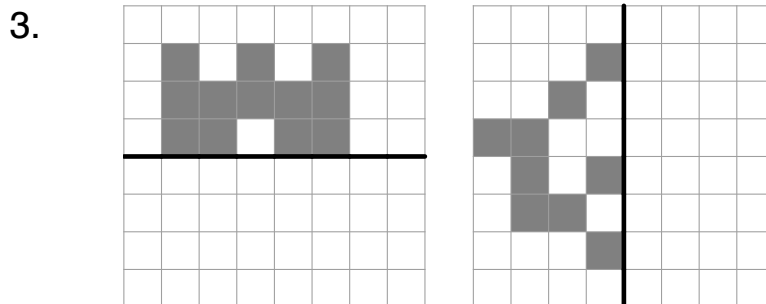
1. Zahlen  

15
10
13
11
14
12

20
18
11
15
13
17

9
2
6
4
8
5

2. $3 + 3 =$ $8 + 8 =$
 $7 + 7 =$ $2 + 2 =$
 $4 + 4 =$ $5 + 5 =$
 $6 + 6 =$ $9 + 9 =$
 $1 + 1 =$ $0 + 0 =$



M2:
Addition bis 20

$$\begin{array}{r} 8 + 4 = 12 \\ 8 + 2 = 10 \\ 10 + 2 = 12 \end{array}$$

$$\begin{array}{r} 6 + 9 = _ \\ 6 + 4 = 10 \\ 10 + 5 = 15 \end{array}$$



Ziehe den Strich mit Füller und Lineal
Immer erst bis 10!, dann weiter

$$\begin{array}{r} 7 + 6 = _ \\ 7 + 3 = 10 \\ 10 + _ = _ \end{array}$$

$$\begin{array}{r} 9 + 8 = _ \\ 9 + _ = 10 \\ 10 + _ = _ \end{array}$$

Heute nur diese 4 Aufgaben! Morgen geht es weiter.

Freitag, 20.03.2020

Schreibe die Übung in dein M1 ab.

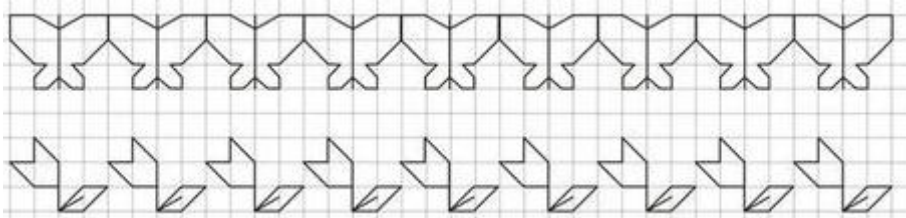
Übung

1. $5 + \underline{\quad} = 10$	$6 + \underline{\quad} = 10$
$2 + \underline{\quad} = 10$	$1 + \underline{\quad} = 10$
$7 + \underline{\quad} = 10$	$5 + \underline{\quad} = 10$
$4 + \underline{\quad} = 10$	$0 + \underline{\quad} = 10$
$8 + \underline{\quad} = 10$	$9 + \underline{\quad} = 10$

2. ungerade Zahlen rot

16 13 19 7 18 4 13 15 20

3. Muster



M2:

$$\begin{array}{r} \underline{6 + 5 = 11} \\ 6 + 4 = 10 \\ 10 + 1 = 11 \end{array}$$

$$\begin{array}{r} \underline{8 + 7 = \quad} \\ 8 + \quad = \quad \\ 10 + \quad = \quad \end{array}$$

Nun genauso folgende Aufgaben mit dem **langen Weg**:

$7 + 4 =$

$6 + 7 =$

$9 + 5 =$

$8 + 3 =$

$4 + 8 =$

$9 + 7 =$

GESCHAFFT!

Sehr geehrte Eltern,

laden Sie sich die neuen Aufgaben für die nächste Woche (23.04.2020 – 27.04.2020) von unserer Homepage herunter.

www.pumphut-grundschule.de

Die Aufgaben werden immer am Wochenende veröffentlicht.

Bei Rückfragen nutzen Sie meine E-Mail-Adresse:

schulleitung@pumphut-grundschule.de

AB für Mittwoch, 18.03.2020

Spiegelbilder. Nutze deinen Spiegel.

