

Mathematik Klasse 1a

Aufgaben für die Lernzeit

23.03.2020 bis 27.03.2020

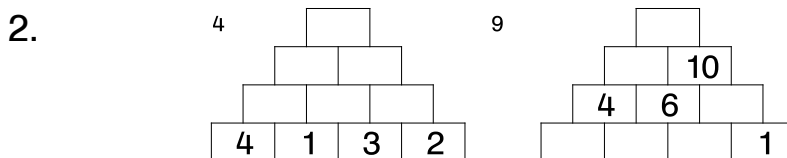
K. Kaline

Montag, 23.03.2020

Schreibe die Übung in dein M1 ab. Bitte achten Sie täglich darauf, dass Ihr Kind die Aufgaben tatsächlich in das Heft 1 überträgt und ausrechnet. Wichtig ist dabei, dass jeden Tag das Datum mitgeschrieben wird und die Überschriften mit grünem Fineliner unterstrichen werden.

Übung

1. $\underline{\quad} + 3 = 9$ $4 + \underline{\quad} = 10$
 $\underline{\quad} + 6 = 8$ $7 + \underline{\quad} = 10$
 $\underline{\quad} + 2 = 7$ $1 + \underline{\quad} = 10$
 $\underline{\quad} + 5 = 6$ $8 + \underline{\quad} = 10$
 $\underline{\quad} + 1 = 4$ $5 - \underline{\quad} = 10$



Die kleinen Zahlen „4“ und „9“ kennen die Kinder. Sie zeigen, wie viele Kästchen frei gelassen werden müssen. Sie werden nicht mitgeschrieben, es ist wirklich nur, damit Sie bzw. ich nicht jedem einzelnen Kind sagen muss, wie viele Kästchen frei bleiben☺.

3. $19 - 6 =$ $20 - 4 =$
 $14 - 4 =$ $18 - 1 =$
 $17 - 2 =$ $15 - 5 =$
 $20 - 8 =$ $19 - 3 =$
 $16 - 3 =$ $17 - 2 =$

Heft 2: Rechnen bis 20

Liebe Eltern, heute rechnen die Kinder wieder bis 20, über den Zehner drüber weg. Bitte immer erst bis 10 die Aufgabe zerlegen und dann weiter.

$$\begin{array}{r} 8 + 7 = \underline{\quad} \\ 8 + 2 = 10 \\ 10 + \underline{\quad} = \underline{\quad} \end{array}$$

$$\begin{array}{r} 6 + 5 = \underline{\quad} \\ 6 + \underline{\quad} = \underline{\quad} \\ 10 + \underline{\quad} = \underline{\quad} \end{array}$$

☆ Zum Üben mit dem langen Weg.

$$\begin{array}{r} 9 + 4 = \underline{\quad} \\ 9 + \underline{\quad} = \underline{\quad} \\ 10 + \underline{\quad} = \underline{\quad} \end{array}$$

$$\begin{array}{r} 5 + 7 = \underline{\quad} \\ 7 + \underline{\quad} = \underline{\quad} \\ 10 + \underline{\quad} = \underline{\quad} \end{array}$$

$$\begin{array}{r} 7+4= \\ 9+9= \\ 6+7= \\ 8+6= \end{array}$$

Dienstag, 24.03.2020

Schreibe die Übung in dein M1 ab.

Übung

1. Verdoppeln

Zahl	8	3	10	7	5	2	9	
D								12

(„D“ steht für „das Doppelte“)

→ 9 cm rüber

3

2. Rechne bis 20

$$\underline{5 + 8 = \quad}$$

$$5 + \quad = 10$$

$$10 + \quad = \quad$$

$$\underline{7 + 9 = \quad}$$

$$7 + \quad = \quad$$

$$10 + \quad = \quad$$

$$\underline{6 + 5 = \quad}$$

$$6 + \quad = \quad$$

$$10 + \quad = \quad$$

$$\underline{8 + 9 = \quad}$$

$$8 + \quad = \quad$$

$$10 + \quad = \quad$$

3. Geld

13 ct ○ ○ ○ ○

15 ct ○ ○ ○ ○

11 ct ○ ○ ○ ○

Zahline Arbeitsheft S. 49, Nr. 1, 2, 3



Ich bin sehr stolz auf dich, dass du so fleißig zuhause lernst und rechnest.

Mach weiter so, denn du bist ein schlaues Herzel.

Mittwoch, 25.03.2020

Schreibe die Übung in dein M1 ab.

Übung

1. Rechnen bis 20

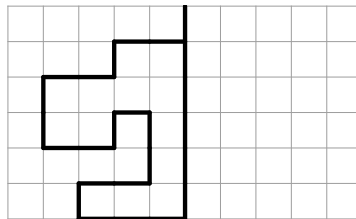
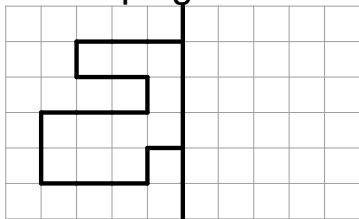
$$\begin{array}{l} 7 + 4 = _ \\ 7 + _ = 10 \\ 10 + _ = _ \end{array}$$

$$\begin{array}{l} 8 + 3 = _ \\ 8 + _ = _ \\ 10 + _ = _ \end{array}$$

$$\begin{array}{l} 2 + 9 = _ \\ 2 + _ = _ \\ 10 + _ = _ \end{array}$$

$$\begin{array}{l} 3 + 9 = _ \\ 3 + _ = _ \\ 10 + _ = _ \end{array}$$

2. Spiegelbilder



Zeichne das Bild ab. Die Spiegelachse kannst du **rot** zeichnen. Erstelle dann das Spiegelbild. Nutze deinen Spiegel.

☆ $300 + 400 =$
 $500 + 500 =$
 $200 + 600 =$
 $400 + 600 =$
 $100 + 800 =$

☆ $90 - 20 - 60 =$
☆ $70 - 50 - 40 =$
 $80 - 30 - 10 =$
 $50 - 20 - 20 =$
 $90 - 40 - 30 =$

→ Schreibe diesen Block darunter.

Geometrie

Zeichne in dein Geometrieheft:

- a) Punkt M Punkt S Punkt W Punkt O
- b) Gerade n = 5 cm
- c) Gerade a = 11 cm
- d) Strecke EF = 7 cm
- e) Strecke LM = 3 cm



Donnerstag, 26.03.2020

Schreibe die Übung in dein M1 ab.

Übung

1. Gerade Zahlen grün

18 13 6 20 17 12 4 15

2. $8 + 8 =$

$4 + 4 =$

$2 + 2 =$

$9 + 9 =$

$5 + 5 =$

$1 + 1 =$

$7 + 7 =$

$6 + 6 =$

$3 + 3 =$

$10 + 10 =$

3. Rechnen bis 20

$4 + 9 = \underline{\quad}$

$5 + 7 = \underline{\quad}$

$4 + \underline{\quad} = 10$

$5 + \underline{\quad} = \underline{\quad}$

$10 + \underline{\quad} = \underline{\quad}$

$10 + \underline{\quad} = \underline{\quad}$

$8 + 7 = \underline{\quad}$

$6 + 9 = \underline{\quad}$

$8 + \underline{\quad} = \underline{\quad}$

$6 + \underline{\quad} = \underline{\quad}$

$10 + \underline{\quad} = \underline{\quad}$

$10 + \underline{\quad} = \underline{\quad}$

★ **Muster** (Du kannst dir gern Buntstifte aussuchen und die Muster farbig zeichnen.)



B S. 100, Nr. 2 (1., 2.Block) → rechne mit dem langen Weg
→ schreibe in dein M1



Fleiß: B S. 100, Nr. 2 (3. Block, 4. Block und 5. Block)

Freitag, 27.03.2020

Schreibe die Übung in dein M1 ab.

Übung

1.

$$\frac{8 + 9 = _}{_}$$

$$8 + _ = 10$$

$$10 + _ = _$$

$$\frac{7 + 4 = _}{_}$$

$$7 + _ = _$$

$$10 + _ = _$$

$$\frac{6 + 8 = _}{_}$$

$$6 + _ = _$$

$$10 + _ = _$$

$$\frac{2 + 9 = _}{_}$$

$$2 + _ = _$$

$$10 + _ = _$$

2. $19 - 5 =$

$16 - 6 =$

$14 - 2 =$

$20 - 3 =$

$18 - 7 =$

$15 - 4 =$

$20 - 3 =$

$12 - 1 =$

$17 - 4 =$

$19 - 2 =$

3. Zahlen  

18
10
7
14
12
16

10
8
1
4
7
10

16
14
10
8
12
15

AB „Rechnen bis 20“

GESCHAFFT! Du hast nun bereits die 2. Woche mit Lernaufgaben zuhause gemeistert. Ich bin sehr stolz auf dich. Drücke deine Mama und deinen Papa, dass sie so geduldig und fleißig mit dir die Lernzeit gestalten. Du und deine Familie habt ein großes Bienchen verdient.

Durchhalten – gemeinsam schaffen wir auch diese Herausforderungen.



K. Kaline

Rechnen bis 20

<u>6 + 8 =</u>	<u>9 + 3 =</u>	<u>7 + 6 =</u>
6 + =	9 + =	7 + =
10 + =	10 + =	10 + =
<u>2 + 9 =</u>	<u>8 + 7 =</u>	<u>3 + 8 =</u>
+ =	+ =	+ =
+ =	+ =	+ =
<u>6 + 5 =</u>	<u>7 + 9 =</u>	<u>4 + 7 =</u>
+ =	+ =	+ =
+ =	+ =	+ =
<u>3 + 9 =</u>	<u>9 + 6 =</u>	<u>8 + 5 =</u>
+ =	+ =	+ =
+ =	+ =	+ =
<u>8 + 5 =</u>	<u>7 + 7 =</u>	<u>8 + 8 =</u>
+ =	+ =	+ =
+ =	+ =	+ =
<u>4 + 9 =</u>	<u>9 + 5 =</u>	<u>5 + 6 =</u>
+ =	+ =	+ =
+ =	+ =	+ =
<u>7 + 5 =</u>	<u>8 + 9 =</u>	<u>6 + 7 =</u>
+ =	+ =	+ =
+ =	+ =	+ =
<u>4 + 8 =</u>	<u>9 + 7 =</u>	<u>7 + 4 =</u>
+ =	+ =	+ =
+ =	+ =	+ =

